

11 класс. Вариант 1

1. Задача 1

Соединение А имеет состав C_8H_{10} . При окислении подкисленным раствором перманганата калия оно превращается в соединение Б, с массовой долей углерода 68,85%. Назовите вещество А (например: 2-метилпентан).

Ответ: этилбензол; фенилэтан

2. Задача 2

Укажите в какую сторону сместится равновесие в обратимой реакции $2A + B = 3C + 2D$, если концентрации веществ А и D увеличить вдвое, а веществ В и С уменьшить вдвое. В ответе напишите только слово ВЛЕВО или ВПРАВО.

Ответ: ВПРАВО

3. Задача 3

Стеклянную колбу заполнили охлажденным газообразным аммиаком ($0^\circ C$) и плотно закрыли горло колбы пробкой с газоотводной трубкой, конец которой опустили в сосуд с водой. Вода устремилась в колбу и заполнила ее доверху. Какой объем раствора H_2SO_4 (с концентрацией 0,1 моль/л) понадобится для нейтрализации 100 мл полученного раствора? Ответ приведите в миллилитрах с точностью до целых (например: 11).

Ответ: 22

4. Задача 4

Кристаллы некоторой двойной соли X окрашивают пламя горелки в фиолетовый цвет. При добавлении к раствору X щелочи выпадает бесцветный студенистый осадок, который при дальнейшем добавлении щелочи растворяется. Тот же осадок выпадает при добавлении к X раствора сульфида натрия. При добавлении к раствору X хлорида бария выпадает нерастворимый в кислотах белый мелкокристаллический осадок. Определите вещество X. В ответе напишите только символы элементов, входящих в состав X, в порядке увеличения атомной массы (например: NOCo для $Co(NO_3)_3$).

Ответ: OAlSK; HOAlSK

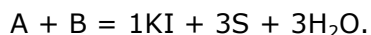
5. Задача 5

Популярное жаропонижающее парацетамол (N-ацетил-пара-амино-фенол) можно получить из бензолсульфокислоты в четыре стадии. Для этого необходимо использовать следующие реагенты: 1) $(CH_3CO)_2O$, Et_3N ; 2) HNO_3 ; 3) $NaOH$, сплавление; 4) Zn , HCl . Расставьте эти реагенты в том порядке, в котором их надо использовать для этого синтеза. В ответе запишите только номера реагентов, не разделяя их запятыми или пробелами (например: 1234).

Ответ: 3241

6. Задача 6

Установите формулы веществ А и В в приведенной схеме реакции. Расставьте стехиометрические коэффициенты в левой части уравнения:



В ответе запишите только одно число - сумму всех коэффициентов в этом уравнении (например: 3). Не забудьте единичные коэффициенты.

Ответ: 11

7. Задача 7

Золотистый минерал халькопирит $CuFeS_2$ полностью растворили в горячей концентрированной азотной кислоте. Запишите уравнение этой реакции, считая, что единственный продукт восстановления азотной кислоты – NO_2 . В ответе укажите только коэффициент перед азотной кислотой в уравнении реакции (например: 14).

Ответ: 22

8. Задача 8

Алкен X не имеет цис- и транс-изомеров. При реакции с раствором брома в CCl_4 и последующем нагревании с избытком спиртового раствора щелочи он не может образовать алкин, а вместо этого образуется углеводород Y. В присутствии катализатора Y быстро превращается в эластичный продукт. Определите алкен X, подходящий под условия задачи и имеющий минимальное число атомов углерода в молекуле. В ответе напишите только название алкена X по номенклатуре ИЮПАК (например: 4-метилгексен-1)

Ответ: 2-метилбутен-2; 2-метил-2-бутен; 2-метилбут-2-ен; изопрен

9. Задача 9

По данным элементного анализа некоторая натриевая соль содержит 19,16% натрия и 53,33% кислорода по массе. В ответе напишите формулу этой соли (например: $NaNO_3$)

Ответ: $NaHSO_4$

10. Задача 10

Вещество P широко используется для дезинфекции туалетов. Оно состоит из трех элементов: углерода (49,0% по массе), водорода (2,7%) и элемента X. Получают P в одну стадию из распространенного продукта переработки нефти. Вещество P полностью сгорает в кислороде без образования нелетучего остатка и продукты сгорания полностью поглощаются раствором щелочи. Плотность паров вещества P в пересчете на нормальные условия равна 6,56 г/л. Установите строение молекулы P,

если известно, что её дипольный момент равен нулю. В ответе напишите название Р по номенклатуре ИЮПАК (например: 2-гидроксипропан).

Ответ: 1,4-дихлорбензол; пара-дихлорбензол; п-дихлорбензол;
парадихлорбензол

11 класс. Вариант 2

1. Задача 1

Соединение А имеет состав C_8H_8 . При окислении подкисленным раствором перманганата калия оно превращается в соединение Б, с массовой долей углерода 68,85%. Назовите вещество А (например: 2-метилпентан).

Ответ: стирол; винилбензол; фенилэтилен; фенилэтен

2. Задача 2

Укажите в какую сторону сместится равновесие в обратимой реакции $2A + B = 3C + 2D$, если концентрации веществ А и D уменьшить вдвое, а веществ В и С увеличить вдвое. В ответе напишите только слово ВЛЕВО или ВПРАВО.

Ответ: ВЛЕВО

3. Задача 3

Стеклянную колбу заполнили охлажденным газообразным метиламином ($0^\circ C$) и плотно закрыли горло колбы пробкой с газоотводной трубкой, конец которой опустили в сосуд с водой. Вода устремилась в колбу и заполнила ее доверху. Какой объем раствора HCl (с концентрацией 0,1 моль/л) понадобится для нейтрализации 100 мл полученного раствора? Ответ приведите в миллилитрах с точностью до целых (например: 11).

Ответ: 44

4. Задача 4

Кристаллы некоторой двойной соли X окрашивают пламя горелки в фиолетовый цвет. При добавлении к раствору X щелочи выпадает коричневый осадок. Тот же осадок выпадает при добавлении к X раствора аммиака. При добавлении к раствору X хлорида бария выпадает нерастворимый в кислотах белый мелкокристаллический осадок. Определите вещество X. В ответе напишите только символы элементов, входящих в состав X, в порядке увеличения атомной массы (например: NOCo для $Co(NO_3)_3$).

Ответ: OSKFe; HOSKFe

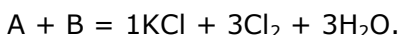
5. Задача 5

Популярное жаропонижающее парацетамол (N-ацетил-пара-амино-фенол) можно получить из изопропилбензола в четыре стадии. Для этого необходимо использовать следующие реагенты: 1) Al, NaOH; 2) CH_3COOH , нагрев; 3) O_2 , H_2SO_4 , катализатор; 4) HNO_3 . Расставьте эти реагенты в том порядке, в котором их надо использовать для этого синтеза. В ответе запишите только номера реагентов, не разделяя их запятыми или пробелами (например: 1234).

Ответ: 3412

6. Задача 6

Установите формулы веществ А и В в приведенной схеме реакции. Расставьте стехиометрические коэффициенты в левой части уравнения:



В ответе запишите только одно число - сумму всех коэффициентов в этом уравнении (например: 3). Не забудьте единичные коэффициенты.

Ответ: 14

7. Задача 7

Обладающий чесночным запахом, черный минерал арсенопирит FeAsS полностью растворили в горячей концентрированной азотной кислоте. Запишите уравнение этой реакции, считая, что единственный продукт восстановления азотной кислоты – NO₂. В ответе укажите только коэффициент перед азотной кислотой в уравнении реакции (например: 14)

Ответ: 17

8. Задача 8

Алкен X является цис-изомером. При реакции с раствором брома в CCl₄ и последующем нагревании с избытком спиртового раствора щелочи он может образовать алкин, но в специально подобранных условиях вместо алкина образуется углеводород Y. В присутствии катализатора Y быстро превращается в эластичный продукт. Определите алкен X, подходящий под условия задачи и имеющий минимальное число атомов углерода в молекуле. В ответе напишите только название алкена X по номенклатуре ИЮПАК (например: 4-метилгексен-1)

Ответ: цис-бутен-2; бутен-2; цис-бут-2-ен; бут-2-ен; цис-2-бутен; 2-бутен

9. Задача 9

По данным элементного анализа некоторая натриевая соль содержит 27,37% натрия и 57,14% кислорода по массе. В ответе напишите формулу этой соли (например: NaNO₃)

Ответ: NaHCO₃

10. Задача 10

Вещество O широко использовалось для борьбы с вредителями леса. Оно состоит из трех элементов: углерода (49,0% по массе), водорода (2,7%) и элемента X. Получают O в одну стадию из распространенного продукта переработки нефти. Вещество O полностью сгорает в кислороде без образования нелетучего остатка и продукты сгорания полностью поглощаются раствором щелочи. Плотность паров вещества O в пересчете на нормальные условия равна 6,56 г/л. Установите строение молекулы O, если известно, что она имеет значительный дипольный

момент. В ответе напишите название О по номенклатуре ИЮПАК (например: 2-гидроксипропан).

Ответ: 1,2-дихлорбензол; орто-дихлорбензол; о-дихлорбензол

11 класс. Вариант 3

1. Задача 1

Соединение А имеет состав C_8H_{10} . При окислении подкисленным раствором перманганата калия оно превращается в соединение Б, с массовой долей углерода 68,85%. Назовите вещество А (например: 2-метилпентан).

Ответ: этилбензол; фенилэтан

2. Задача 2

Укажите в какую сторону сместится равновесие в обратимой реакции $2A + B = 3C + 2D$, если концентрации веществ А и D увеличить вдвое, а веществ В и С уменьшить вдвое. В ответе напишите только слово ВЛЕВО или ВПРАВО.

Ответ: ВПРАВО

3. Задача 3

Стеклянную колбу заполнили охлажденным газообразным аммиаком ($0^\circ C$) и плотно закрыли горло колбы пробкой с газоотводной трубкой, конец которой опустили в сосуд с водой. Вода устремилась в колбу и заполнила ее доверху. Какой объем раствора H_2SO_4 (с концентрацией 0,1 моль/л) понадобится для нейтрализации 100 мл полученного раствора? Ответ приведите в миллилитрах с точностью до целых (например: 11).

Ответ: 22

4. Задача 4

Кристаллы некоторой двойной соли X окрашивают пламя горелки в фиолетовый цвет. При добавлении к раствору X щелочи выпадает коричневый осадок. Тот же осадок выпадает при добавлении к X раствора аммиака. При добавлении к раствору X хлорида бария выпадает нерастворимый в кислотах белый мелкокристаллический осадок. Определите вещество X. В ответе напишите только символы элементов, входящих в состав X, в порядке увеличения атомной массы (например: NOCo для $Co(NO_3)_3$).

Ответ: OSKFe; HOSKFe

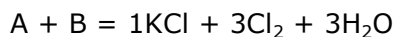
5. Задача 5

Популярное жаропонижающее парацетамол (N-ацетил-пара-амино-фенол) можно получить из бензолсульфокислоты в четыре стадии. Для этого необходимо использовать следующие реагенты: 1) $(CH_3CO)_2O$, Et_3N ; 2) HNO_3 ; 3) $NaOH$, сплавление; 4) Zn , HCl . Расставьте эти реагенты в том порядке, в котором их надо использовать для этого синтеза. В ответе запишите только номера реагентов, не разделяя их запятыми или пробелами (например: 1234).

Ответ: 3241

6. Задача 6

Установите формулы веществ А и В в приведенной схеме реакции. Расставьте стехиометрические коэффициенты в левой части уравнения:



В ответе запишите только одно число - сумму всех коэффициентов в этом уравнении (например: 3). Не забудьте единичные коэффициенты.

Ответ: 14

7. Задача 7

Золотистый минерал халькопирит $CuFeS_2$ полностью растворили в горячей концентрированной азотной кислоте. Запишите уравнение этой реакции, считая, что единственный продукт восстановления азотной кислоты – NO_2 . В ответе укажите только коэффициент перед азотной кислотой в уравнении реакции (например: 14).

Ответ: 22

8. Задача 8

Алкен X является цис-изомером. При реакции с раствором брома в CCl_4 и последующем нагревании с избытком спиртового раствора щелочи он может образовать алкин, но в специально подобранных условиях вместо алкина образуется углеводород Y. В присутствии катализатора Y быстро превращается в эластичный продукт. Определите алкен X, подходящий под условия задачи и имеющий минимальное число атомов углерода в молекуле. В ответе напишите только название алкена X по номенклатуре ИЮПАК (например: 4-метилгексен-1)

Ответ: цис-бутен-2; бутен-2; цис-бут-2-ен; бут-2-ен; цис-2-бутен; 2-бутен

9. Задача 9

По данным элементного анализа некоторая натриевая соль содержит 19,16% натрия и 53,33% кислорода по массе. В ответе напишите формулу этой соли (например: $NaNO_3$)

Ответ: $NaHSO_4$

10. Задача 10

Вещество O широко использовалось для борьбы с вредителями леса. Оно состоит из трех элементов: углерода (49,0% по массе), водорода (2,7%) и элемента X. Получают O в одну стадию из распространенного продукта переработки нефти. Вещество O полностью сгорает в кислороде без образования нелетучего остатка и продукты сгорания полностью поглощаются раствором щелочи. Плотность паров вещества O в пересчете на нормальные условия равна 6,56 г/л. Установите строение молекулы O, если известно, что она имеет значительный дипольный

момент. В ответе напишите название О по номенклатуре ИЮПАК (например: 2-гидроксипропан).

Ответ: 1,2-дихлорбензол; орто-дихлорбензол; о-дихлорбензол

11 класс. Вариант 4

1. Задача 1

Соединение А имеет состав C_8H_8 . При окислении подкисленным раствором перманганата калия оно превращается в соединение Б, с массовой долей углерода 68,85%. Назовите вещество А (например: 2-метилпентан).

Ответ: стирол; винилбензол; фенилэтилен; фенилэтен

2. Задача 2

Укажите в какую сторону сместится равновесие в обратимой реакции $2A + B = 3C + 2D$, если концентрации веществ А и D увеличить вдвое, а веществ В и С уменьшить вдвое. В ответе напишите только слово ВЛЕВО или ВПРАВО.

Ответ: ВПРАВО

3. Задача 3

Стеклянную колбу заполнили охлажденным газообразным аммиаком ($0^\circ C$) и плотно закрыли горло колбы пробкой с газоотводной трубкой, конец которой опустили в сосуд с водой. Вода устремилась в колбу и заполнила ее доверху. Какой объем раствора H_2SO_4 (с концентрацией 0,1 моль/л) понадобится для нейтрализации 100 мл полученного раствора? Ответ приведите в миллилитрах с точностью до целых (например: 11).

Ответ: 22

4. Задача 4

Кристаллы некоторой двойной соли X окрашивают пламя горелки в фиолетовый цвет. При добавлении к раствору X щелочи выпадает бесцветный студенистый осадок, который при дальнейшем добавлении щелочи растворяется. Тот же осадок выпадает при добавлении к X раствора сульфида натрия. При добавлении к раствору X хлорида бария выпадает нерастворимый в кислотах белый мелкокристаллический осадок. Определите вещество X. В ответе напишите только символы элементов, входящих в состав X, в порядке увеличения атомной массы (например: NOCo для $Co(NO_3)_3$).

Ответ: OAlSK; HOAlSK

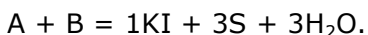
5. Задача 5

Популярное жаропонижающее парацетамол (N-ацетил-пара-амино-фенол) можно получить из изопропилбензола в четыре стадии. Для этого необходимо использовать следующие реагенты: 1) Al, NaOH; 2) CH_3COOH , нагрев; 3) O_2 , H_2SO_4 , катализатор; 4) HNO_3 . Расставьте эти реагенты в том порядке, в котором их надо использовать для этого синтеза. В ответе запишите только номера реагентов, не разделяя их запятыми или пробелами (например: 1234).

Ответ: 3412

6. Задача 6

Установите формулы веществ А и В в приведенной схеме реакции. Расставьте стехиометрические коэффициенты в левой части уравнения:



В ответе запишите только одно число - сумму всех коэффициентов в этом уравнении (например: 3). Не забудьте единичные коэффициенты.

Ответ: 11

7. Задача 7

Обладающий чесночным запахом, черный минерал арсенопирит FeAsS полностью растворили в горячей концентрированной азотной кислоте. Запишите уравнение этой реакции, считая, что единственный продукт восстановления азотной кислоты – NO₂. В ответе укажите только коэффициент перед азотной кислотой в уравнении реакции (например: 14)

Ответ: 17

8. Задача 8

Алкен X не имеет цис- и транс-изомеров. При реакции с раствором брома в CCl₄ и последующем нагревании с избытком спиртового раствора щелочи он не может образовать алкин, а вместо этого образуется углеводород Y. В присутствии катализатора Y быстро превращается в эластичный продукт. Определите алкен X, подходящий под условия задачи и имеющий минимальное число атомов углерода в молекуле. В ответе напишите только название алкена X по номенклатуре ИЮПАК (например: 4-метилгексен-1)

Ответ: 2-метилбутен-2; 2-метил-2-бутен; 2-метилбут-2-ен; изопрен

9. Задача 9

По данным элементного анализа некоторая натриевая соль содержит 27,37% натрия и 57,14% кислорода по массе. В ответе напишите формулу этой соли (например: NaNO₃)

Ответ: NaHCO₃

10. Задача 10

Вещество Р широко используется для дезинфекции туалетов. Оно состоит из трех элементов: углерода (49,0% по массе), водорода (2,7%) и элемента X. Получают Р в одну стадию из распространенного продукта переработки нефти. Вещество Р полностью сгорает в кислороде без образования нелетучего остатка и продукты сгорания полностью поглощаются раствором щелочи. Плотность паров вещества Р в пересчете на нормальные условия равна 6,56 г/л. Установите строение молекулы Р,

если известно, что её дипольный момент равен нулю. В ответе напишите название Р по номенклатуре ИЮПАК (например: 2-гидроксипропан).

Ответ: 1,4-дихлорбензол; пара-дихлорбензол; п-дихлорбензол